

**Oefenvragen beginnertraining.**

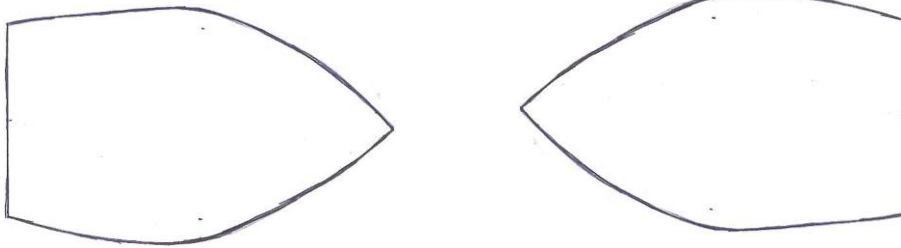
Naam:.....

*Hier zijn wat vragen om te kijken of jullie de afgelopen trainingen begrepen hebben! Met jullie kennis zouden jullie dit moeten kunnen maken*


Een boot heeft twee kanten en twee zijdes. Welke zijn dat?(tip: hoog en .....)

1..... 2.....

**Teken deze kanten in onderstaand figuur!**




Wat is op onderstaande tekening rechts en wat is links? (maar dan op het water)

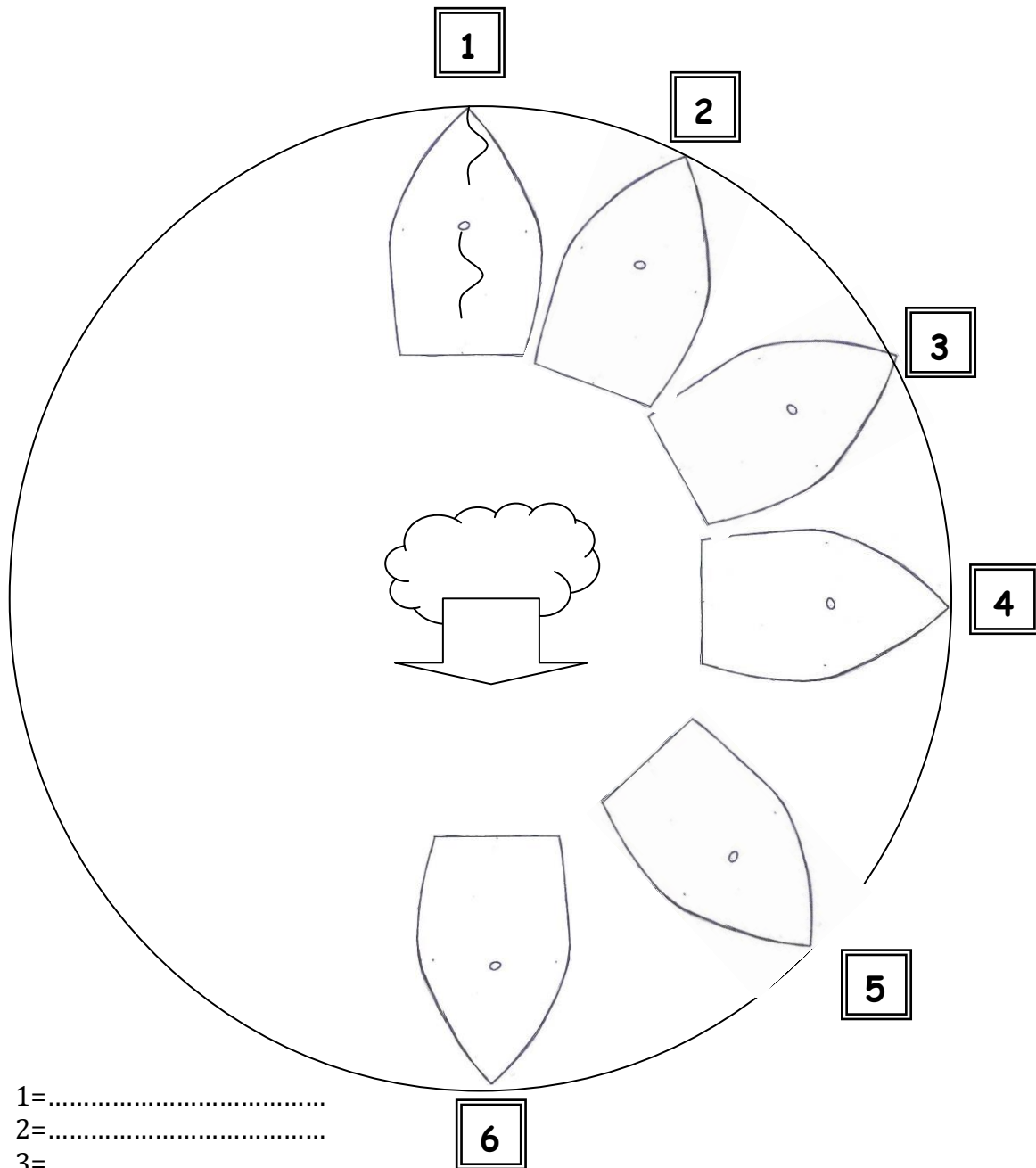


Teken in onderstaand plaatje dat de wind uit het noorden komt.

Hoe heten de verschillende kanten op het water?(tip: .....wal)

Vul dit in bij de cijfers!





- 1=.....
- 2=.....
- 3=.....
- 4=.....
- 5=.....
- 6=.....

**Teken de zeilen in de figuren!**

Noem eens een aantal spullen die je meeneemt tijdens het zeilen. Noem er maar 6

- 1=.....
- 2=.....
- 3=.....
- 4=.....
- 5=.....
- 6=.....